

11 Aus einem 20 cm langen Draht wird ein Quadrat geformt.

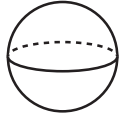
_/1

Wie groß ist der Flächeninhalt des Quadrats? Kreuze an.

- 16 cm² 20 cm² 25 cm² 400 cm²

12 Verbinde die Körper mit den zugehörigen Namen.

_/1



Prisma

Pyramide

Zylinder

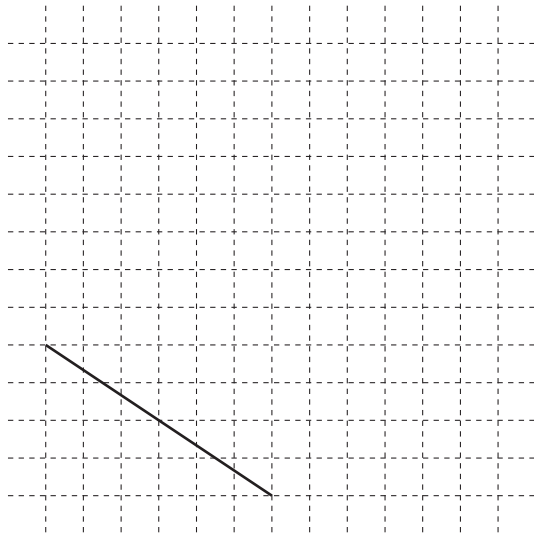
Kugel

Kreis

Quader


13 Ergänze zu einem Quadrat.

_/1



14 Zeichne alle Symmetrieachsen ein.

_/1



15 Zeichne ein Rechteck, das den gleichen Flächeninhalt besitzt wie die achsensymmetrische Figur.

_/1

